

PLAN DE TRAVAIL 12

Vendredi 1 mai 2020




Orthographe/Vocabulaire

1. Dictée de phrases (série 20) : voir la page suivante.

2. Un pendu sur les animaux.

<https://www.logicieleducatif.fr/francais/mots/penduanimaux.php>



Opérations

1. Sur une feuille, réalise les calculs écrits de la page suivante.

2. Il est temps de passer un diplôme sur les **tables**.

<https://www.tabledemultiplication.ch/diplome/>

Grammaire :

3e : Recopie ,sur une feuille, les 10 phrases et souligne les **verbes** et les **groupes sujets**.

https://www.logicieleducatif.fr/fiches/conjugaison-grammaire/sujet_verbe02.pdf

4e : Recopie, sur une feuille, les 10 phrases et souligne les **verbes**, les **groupes sujets** et les **compléments circonstanciels** de temps, lieu et manière.

<https://www.logicieleducatif.fr/fiches/conjugaison-grammaire/sujet-verbe-cod-cc02.pdf>

Eveil : Voici toutes une série de jeux pour t'exercer en histoire, géographie et sciences.

<https://www.jeuxpedago.com/jeux-histoire-geo-ce1-5eme-les-grandes-periodes-historiques- pageid373.html>

<https://www.jeuxpedago.com/jeux-histoire-geo-cm1-cm2-texte-a-trous-la-prehistoire-niv-1- pageid1269.html>

<https://www.jeuxpedago.com/jeux-svt-ce1-cm1-carnivores-herbivore-et-omnivores- pageid1317.html>

<https://www.jeuxpedago.com/jeux-histoire-geo-cp-cm2-continent-et-oceans- pageid284.html>


<https://www.jeuxpedago.com/jeux-histoire-geo-cm1-5eme-jeu-quel-est-le-bon-continent-niv-1- pageid1334.html>



Problèmes

https://www.logicieleducatif.fr/math/problemes/pb_tps.php

(Niveau 2 pour les 4e)



Lecture

Lis la description (page suivante) et dessine en respectant toutes les consignes.

Texte à lire :



“C’est un extraterrestre. Il a une tête carrée, comme une télévision, avec deux antennes. Il a trois gros yeux jaunes. Il n’a pas de bouche, mais il a un long nez très mince. Il a deux dents pointues qui sortent du nez. Son corps ressemble à celui d’un ours, il est très poilu. Ses mains ont quatre doigts poilus. Il n’a pas de pieds, mais il porte des patins à roulettes. Il porte un très petit chapeau pointu vert sur sa tête. Il porte aussi un petit sac à main rayé noir et blanc, dans sa main gauche. L’extraterrestre se trouve devant la vitrine d’un magasin de vêtements. A sa droite, un petit chien noir le regarde.”

Calculs écrits :



3e :

$$865 - 342 =$$

$$677 - 265 =$$

$$961 - 458 =$$

$$838 - 652 =$$

$$913 - 376 =$$

4e :

$$2369 - 1248 =$$

$$6974 - 4859 =$$

$$9534 - 5495 =$$

$$367 \times 63 =$$

$$579 \times 25 =$$

Les phrases à dicter :



Pour tous

1. Alors, tu as retenu les mots difficiles sauf deux.
2. Vos marraines effrayées voient quatorze caisses noires.
3. Le troisième endroit sera permis.

Pour les 4e


4. Là-bas, les yeux de cette personne moyenne sont tellement curieux !
5. Quel malheur, rangez votre chambre !

Défis



Ecris ton prénom en hiéroglyphes et envoie-nous la photo.

ANCIENT EGYPT HIEROGLYPHICS



2

Dans ta maison et muni de ta **latte**, cherche ...

- un objet qui mesure entre 2cm et 5 cm
- un objet qui mesure entre 22 cm et 29 cm
- un objet qui mesure entre 58 cm et 65 cm
- un objet qui est plus grand qu'un mètre mais plus petit que 120 cm.



Quand tu les a trouvés, place-les du plus petit au plus grand et envoie-nous la photo.

Beau travail !